

5.
SINIF

5'Li
DENEME

SAYISAL
BÖLÜM

SÖZEL
BÖLÜM

PYBS

Parasız Yıllık ve
Bursluk Sınavına
uygundur.

Deneme	... tarihine kadar olan konular içerir.
1. Deneme	05 Ocak
2. Deneme	09 Şubat
3. Deneme	22 Mart
4. Deneme	10 Mayıs
5. Deneme	Genel



MOBİL OPTİK OKUMALI

ELİYEN
ZEKA

5. SINIF DENEME SINAVI

SÖZEL BÖLÜM

1.
Deneme

1. OTURUM

DERS ADI	SORU SAYISI	TOPLAM SORU SAYISI	SINAV SÜRESİ (DAKİKA)
Türkçe	20	50	75
Sosyal Bilgiler	10		
Din Kültürü ve Ahlak Bilgisi	10		
Yabancı Dil (İngilizce)	10		

AÇIKLAMA

1. Bu kitapçıkta 5. sınıf sözel bölüm testi bulunmaktadır.
2. Bu kitapçıkta testlerde yer alan her sorunun yalnızca bir doğru cevabı vardır.
3. Cevap kâğıdı üzerindeki kodlamaları kurşun kalemle yapınız.

Adı :

Soyadı :

Sınıfı / Şubesi :

Öğrenci No :

7. Aşağıda verilen atasözlerinden hangileri aynı doğrultudadır?

- A) Akıl olmayınca başta ne kuruda biter ne yaşta.
Yazın başı pişenin kışın aşı pişer.
- B) Keskin sirke küpüne zarar.
Öfkeyle kalkan zararlar oturur.
- C) Borç yığının kamçısıdır.
Damlaya damlaya göl olur.
- D) Azıcık aşım kaygısız başım.
Az veren candan çok veren maldan olur.

8. “Daha önceden duymuş olmalı ki çok mutlu olacağı haberi ona ulaştırmama rağmen oralı bile olmadı.”

Bu metinde altı çizili olarak verilen kelime grubu yerine aşağıdakilerden hangisi getirilirse cümle anlamında bir değişiklik olmaz?

- A) hiç hoşlanmadı.
B) duygusunu yitirdi.
C) önemsemedi.
D) istediği olmadı.

9. I. Hacı Bayram Camii'nin etrafında, eski Ankara Mahalle'lerini andıran binalar yapılmış.

II. I. Dünya Savaşı yıllarını konu edinen roman, bir solukta okuyup bitirebileceğiniz türden.

III. Attila İlhan “Ben Sana Mecburum” şiiriyle çok geniş kitlelere kendini sevdirmiştir.

IV. Mustafa Kemal Atatürk'ün anılarının anlatıldığı “Çankaya” adlı eseri henüz okumadım.

Numaralanmış cümlelerin hangisinde büyük harflerin kullanımıyla ilgili yazım yanlışı yapılmıştır?

- A) I. B) II. C) III. D) IV.

10. Yazmak insanoğlunun doğuştan gelen bir isteği gibidir. En azından bana öyle geliyor. Duygu ve düşüncelerimizi başkasıyla paylaşmak, içimizdekileri başkalarına duyurmak yazmanın altında yatan ana sebeptir. Bu yüzdendir ki çoğu insan eline kalem, kâğıdı alır birkaç şey karalayabilir. Bunun öyle edebi olmasına da gerek yoktur. Yazdıklarımızla bizim gibi düşünen var mı, bana katılan var mı sorularına yanıt arıyorsunuz aslında. Bu yüzden içimize sığmayan, coşkun duygularımızı herkes bilsin isteriz.

Bu metinde asıl vurgulanmak istenen aşağıdakilerden hangisidir?

- A) Duygularımızı paylaşmak istememizin sonucunda yazarız.
B) İnsanların her dönem belli başlı istekleri olmuştur.
C) Yazmak herkesin yapabileceği bir iş değildir.
D) Duygularımızı çoğu zaman kimsenin bilmesini istemeyiz.

11. Son devrin ünlü hat ustalarından Hamit Aytaç, İstanbul'da Reşit Efendi Hanı'ndaki bürosunda çalışırdı. Hanın girişinde merdiven başında Mahmut adlı bir çaycı vardı. Sinirli bir çaycı olan Mahmut, bir gün Hattat Hamit'e “Sen Hattat Hamit'sen ben de Çaycı Mahmut'um!” diye çıkışır. Meseleyi alevlendirmek istemeyen Hattat Hamit, Çaycı Mahmut'a şu cevabı verir. “Bak evladım, her handa bir çaycı Mahmut bulabilirsin ama bir Hattat Hamit bulamazsın.”

Bu metinde anlatılmak istenen aşağıdakilerden hangisidir?

- A) Aynı ortamda çalışanlar birbirine karşı saygılı olmalıdır.
B) Bazı meslekleri küçümsememelidir.
C) Herkes sanatkâr olamayacağından sanatkârların değeri bilinmelidir.
D) Yakın çevremizdeki kişilerle tartışmaya girmemelidir.

12. Yaşadığımız hayat sağlığımızı belirleyen etmenlerin başında gelmektedir. Sahip olduğumuz bu yaşama biçimimizin de en önemli ögesi beslenmedir. Beslenmesine dikkat eden ve sağlıklı beslenen bir kişi kendisini her zaman rahat ve dinç hisseder. Ayrıca böyle kişilerin hastalıklara yakalanma olasılığı daha düşüktür. Bunun yanında sağlıksız ve dengesiz beslenen kişiler ise daha çabuk hastalanır. Sağlıklı beslenmenin insanın psikolojik ve ruhsal yapısında da etkili olduğu bilinen bir gerçektir. Sağlıklı ve dengeli beslenen kişiler, psikolojik yönden daha güçlü olur.

Bu metinde aşağıdakilerden hangisine değinilmemiştir?

- A) Sağlıklı beslenen kişiler, psikolojik yönden daha güçlüdür.
B) Sağlıklı beslenenlerin hastalıklara yakalanma olasılığı daha düşüktür.
C) Her insan sağlıklı beslenme konusunda bir uzman görüşüne başvurmaktadır.
D) Beslenmesine dikkat eden kişiler kendisini her zaman rahat ve dinç hisseder.

13. Kara bir ata binmiş bulut
Dörtal inerken gökten
Demirci çekici bırakır elinden
Tavuk başını kaldırır ve gıdaklar
Kararır ovaya doğru
Kasaba gündüzünün yarısı
Bulut geçip gider

Altı çizili kelimelerden hangisinde kişileştirme vardır?

- A) At
B) Bulut
C) Demirci
D) Tavuk

14. Herşeyden önce aklından çıkarmaman gereken
I
bir şey var ki hayat zordur, yaşamakise oldukça
II
kolay. Bu sana isteğin dışında verilmiştir. Verildiği kadarıda senindir, kıymetini bil.
III
IV

Yukarıda verilen numaralandırılmış sözcüklerden hangisinin yazımında yanlışlık yapılmamıştır?

- A) I. B) II. C) III. D) IV.

15.



Bu görselde anlatılmak istenen aşağıdakilerden hangisidir?

- A) Bitki örtüsü tabiatı güzelleştiren bir unsurdur.
B) İnsanlar ağaçlardan başlayarak doğaya zarar vermektedir.
C) Yeşil alanların az olmasının temelinde her vatandaşın bilinçsizliği vardır.
D) İnsanlar şehir hayatından kendilerini bir an önce atmak istemektedir.

16. Aşağıdaki cümlelerden hangisi kanıtlanabilirlik açısından diğerlerinden farklıdır?

- A) Yaz aylarında buralarda erik ve kiraz toplanır.
B) Bize bu muhteşem manzaranın tadını çıkarmak kalıyor.
C) Ege'nin her mevsim kendine göre bir güzelliği vardır.
D) Hayatta öncelik verilmesi gereken şey sevgidir.

17. Aşağıdaki cümlelerin hangisinde "düşmek" sözcüğü gerçek anlamı dışında kullanılmıştır?

- A) Havada uçan kuş vurulmuş gibi birdenbire sokağa düşüyor.
B) Çocukken ağaçtan düşüp ayağım kırılmıştı da ağlayamamıştım.
C) İnce uzun dallı badem ağaçlarının alaca gölgeleri sahile inen keçi yoluna düşüyordu.
D) Nedense sen bu işin üstüne çok düştün.



18 ve 19. soruları aşağıdaki metne göre cevaplayınız.

Her dönemde olduğu gibi günümüzde de aile içi iletişim çok önemlidir ancak bunun üzerinde yeterince durulmamaktadır. Bilinen o ki birçok sorunun gerçek nedeni aile içi iletişimdeki eksiklik ve olumsuzluktan kaynaklanmaktadır. Yoğun iş hayatından ve okul yaşamından arta kalan vakitlerimizi de çoğu zaman televizyon izleyerek veya telefonda İnternet ortamında dolaşarak geçiriyoruz. Böylelikle duygularımız ve düşüncelerimiz sessizce geçiştirilmektedir. Kısaca aile içinde yabancılaşma görülmektedir. Aile içi iletişimin yetersiz olması insanlar arası ilişkileri de zayıflatmaktadır. Ev içinde zayıflayan iletişim, değişen insan davranışları, doyumsuzluk, kıyaslama gibi birçok soruna yol açmaktadır. Görülüyor ki aile içinde oluşan iletişim eksikliği ve bireyler arasındaki bağların zayıflaması sonucu günlük hayatımızda da birçok sorunla karşılaşmaktayız.

18. Yukarıdaki metinde asıl anlatılmak istenen aşağıdakilerden hangisidir?

- A) İnsanlar arasındaki sorunlar çoğu zaman çözümsüz kalmaktadır.
- B) Aile içinde oluşan iletişim kopukluğu gerek aile içi gerekse aile dışı birçok sorun oluşturmaktadır.
- C) İletişim kopukluğunun olması günümüz insanın kendine göre bazı önlemler almasına yol açmıştır.
- D) Aile bir toplumun ayakta kalmasını sağlayan en önemli unsur olarak görülmektedir.

19. Bu metne göre günlük hayatımızda karşılaştığımız problemlerin temeli nedir?

- A) İnsanların birbirlerine karşı olan tahammülsüzlüğü
- B) Her zaman kendi çıkarları doğrultusunda hareket etmeleri
- C) Aile içerisindeki iletişimin yetersiz olması
- D) Bireylerin aileye olan ihtiyaçlarının zayıflaması

20. Sena, Tülay ve Canan bir okulda 5. Sınıf öğrencileri olan çok yakın arkadaşlardır. Bu arkadaşların Türkçe, matematik ve sosyal bilgiler derslerindeki başarıları birbirinden farklıdır. Öğrencilerin başarıları ile ilgili bilinenler şunlardır:

- Tülay, sosyal bilgiler dersinde Canan'dan daha başarılıdır.
- Canan, Türkçe dersinde başarısız olmaktadır.
- Sena, matematik ve Türkçe dersinde en başarılı kişidir.
- Tülay, Türkçe dersinde Sena'dan sonra başarılı olmaktadır.

Verilenlere göre aşağıdaki bilgilerden hangisi yanlıştır?

- A) Türkçe dersinde başarı sıralamasının en gerisinde olan Canan'dır.
- B) Tülay, Türkçe dersinden ikinci başarılı olan kişidir.
- C) Sena'nın matematik dersindeki başarısı Canan'dan sonra gelir.
- D) Sosyal bilgiler dersinde Canan Tülay'dan daha başarılı değildir.

Türkçe testi bitti. Sosyal bilgiler testine geçiniz.

Bu testte 10 soru vardır. Cevaplarınızı cevap kâğıdına işaretleyiniz.

1. Millî Bayramlarımız;

- 23 Nisan Ulusal Egemenlik ve Çocuk Bayramı
- 19 Mayıs Atatürk'ü Anma, Gençlik ve Spor Bayramı
- 15 Temmuz Demokrasi ve Millî Birlik Günü
- 30 Ağustos Zafer Bayramı
- 29 Ekim Cumhuriyet Bayramı


Yukarıda verilen bayramlarımızda;

- I. hoşgörü,
- II. birlik,
- III. dayanışma,

kavramlarından hangileri önem kazanır?

- A) Yalnız I. B) I ve II.
C) II ve III. D) I, II ve III.

2. Aşağıda telefon üzerinden gerçekleştirilen bir bayramlaşma mesajı gösterilmiştir.



Bu bayramlaşma mesajıyla ilgili olarak,

- I. Teknolojiyle beraber kültürel değerlerimizde de değişimler meydana gelmiştir.
- II. Teknolojinin gelişimi kültürel değerlerimizin yok olmasına neden olmuştur.
- III. Günümüzde telefon olmadan bayram kutlamaları yapılamamaktadır.

yorumlarından hangileri yapılabilir?

- A) Yalnız I. B) I ve II.
C) II ve III. D) I, II ve III.

3. Sosyal bilgiler dersinde öğretmen, bir öğrencisine her birinin değeri 20 puan olan aşağıdaki beş soruyu sormuştur.

Öğrenci bu soruların tamamına "hayır" diye cevap vermiştir.

1. Sosyal bilgiler sorumluluk alma, yardımlaşma ve beraber çalışmayı alışkanlık hâline getirir.
2. Sosyal bilgiler dersi, bireyin sosyalleşmesine yardımcı olmaz.
3. Öğrenciler çevreyi koruma ve iyileştirme bilincini sadece sosyal bilgiler sayesinde kazanır.
4. Sosyal bilgiler, yaşadığımız çevreyi ve dünyamızın özelliklerini tanımamıza yardımcı olur.
5. Sosyal bilgiler; tarih, coğrafya, fizik, kimya sosyoloji, vatandaşlık gibi konuları içermektedir.

Buna göre öğrenci, verdiği cevaplar doğru ise toplam kaç puan almıştır?

- A) 40 B) 60 C) 80 D) 100

4. Urartular krallıkla yönetilirdi. Çok tanrılı din anlayışları vardı. Urartularda ölümden sonra da yaşam inancı vardı. Bu nedenle ölen kişilere oda mezarlar yapar ve bu kişilerin eşyalarını yanlarına koyarlardı.

Yukarıda verilen açıklamada Urartularla ilgili alanlardan;

- I. din,
- II. yönetim,
- III. ekonomi

hangileri hakkında bilgi verilmiştir?

- A) Yalnız I. B) Yalnız III.
C) I ve II. D) I, II ve III.

5. Aşağıda Anadolu'da ve Mezopotamya'da kurulan uygarlıklar verilmiştir.

Anadolu'da Kurulan Uygarlıklar					Mezopotamya'da Kurulan Uygarlıklar		
Hititler MÖ 2000-700	Frigler MÖ 1200-676	İyonlar MÖ 1200-546	Urartular MÖ 900-600	Lidyalılar MÖ 700-547	Sümerler MÖ 3500-2000	Babiller MÖ 2105-338	Asurlar MÖ 2000-612

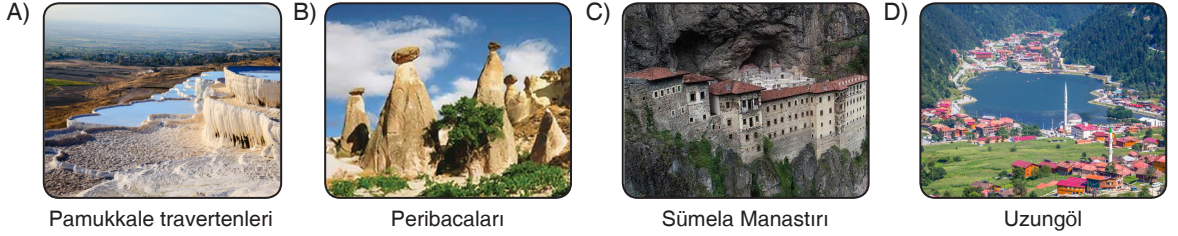
Verilen bilgilere bakılarak bu uygarlıklarla ilgili,

- I. Anadolu'da aynı anda farklı uygarlıklar yaşamıştır.
- II. Anadolu'ya yazıyı Asurlu tüccarlar getirmiştir.
- III. Mezopotamya'da yaşayan uygarlıklar tarımla uğraşmışlardır.

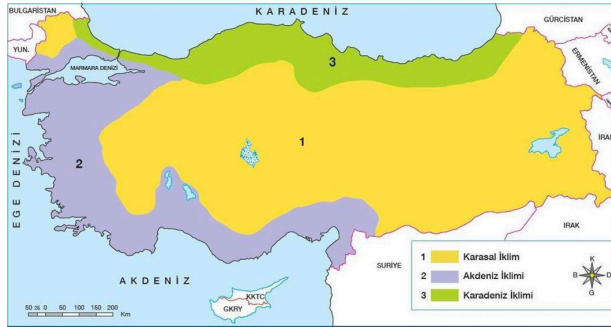
Yorumlarından hangilerine ulaşılabilir?

- A) Yalnız I. B) I ve II. C) II ve III. D) I, II ve III.
6. Doğada insan eli değmeden oluşan, gezilip görülebilecek eşsiz güzellikteki yerler ve unsurlar doğal varlık olarak nitelendirilir. Yurdumuz doğal varlıklar bakımından oldukça zengindir.

Buna göre aşağıda verilenlerden hangisi doğal varlıklara örnek olarak gösterilemez?



7. Aşağıdaki haritada Türkiye'de görülen iklimler gösterilmiştir.



Buna göre Türkiye'de görülen iklimlerle ilgili olarak aşağıdakilerden hangisi söylenemez?

- A) Türkiye'de yaygın olarak Karasal iklim görülmektedir.
- B) Marmara Bölgesi'nde iklim çeşitliği fazladır.
- C) İç bölgelerde kış ılıklığı isteyen tarım ürünleri yetiştirilmektedir.
- D) Akdeniz kıyılarında kışları ılık geçen bir iklim hakimdir.

8.

“– Herkes yaşama, maddi ve manevi varlığını koruma ve geliştirme hakkına sahiptir. Tıbbi zorunluluklar ve kanunda yazılı hâller dışında, kişinin vücut bütünlüğüne dokunulamaz; rızası olmadan bilimsel ve tıbbi deneylere tâbi tutulamaz. Kimseye işkence ve eziyet yapılamaz; kimse insan haysiyetiyle bağdaşmayan bir cezaya veya muameleye tâbi tutulamaz.”

(MADDE 17)

Anayasamızın verilen maddesi aşağıdaki haklarımızdan hangisi ile ilgilidir?

- A) Seyahat Hakkı
- B) Kişi Dokunulmazlığı Hakkı
- C) Eğitim Hakkı
- D) Özel Yaşamın Gizliliği Hakkı

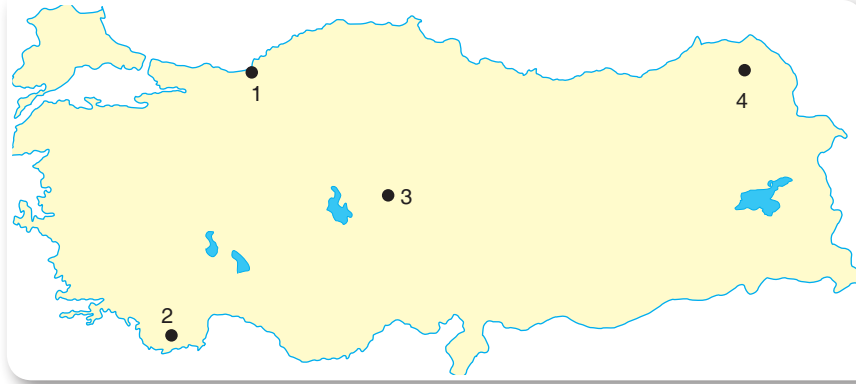
9.

Gelenek ve göreneklerin yaşaması ve bir sonraki kuşağa aktarılması, toplum içerisinde etkileşimin güçlü olduğunun bir kanıtıdır. Çünkü komşuluk, misafirperverlik, asker uğurlama, imece ve daha birçok etkinlik, birden fazla kişi veya ailenin bir araya gelmesiyle, aynı amaç etrafında toplanmasıyla gerçekleşir. Ortak değerlerimiz, dinî ve millî bayramlarımız, vatan sevgimiz toplumun kenetlenmesinde önemlidir.

Bu bilgilere göre kültürel değerlerimizin toplum açısından en önemli kazanımı aşağıdakilerden hangisidir?

- A) Ekonomik hayatı canlandırması
- B) Toplumda birlik ve beraberliği güçlendirmesi
- C) Bireyler arasında ayrımcılıkları arttırması
- D) Toplumda çatışma ortamı oluşturması

10. Fiziki haritalarda kahverengi, deniz seviyesine göre 1500-4500 metre arasında bulunan, yükseltisi fazla olan yerleri gösterir.



Buna göre Türkiye haritasında verilen numaralı bölgelerden hangisinde kahverengi tonların daha fazla olması beklenir?

- A) 1
- B) 2
- C) 3
- D) 4

Sosyal bilgiler testi bitti. Din kültürü ve ahlak bilgisi testine geçiniz.

1. Deneme

DİN KÜLTÜRÜ VE AHLAK BİLGİSİ

Bu testte 10 soru vardır. Cevaplarınızı cevap kâğıdına işaretleyiniz.

1. I. Nefes aldığımız havadaki oksijen oranı bize göredir.
II. Denizdeki tuz seviyesi uygun orandadır.
III. Dünyanın hareketleri sonucu mevsimler oluşmaktadır.
IV. Vücudumuz belli bir ölçü ve oran üzerine yaratılmıştır.

Yukarıdakilerden hangisi Allah'ın her şeyi bir ölçüye göre yarattığının kanıtı olarak gösterilemez?


- A) Yalnız II. B) I ve III.
C) II ve IV. D) Hiçbiri

2. • Tanımadığımız kişileri mesajlarla rahatsız etmemek.
• Öğretmenimizin sözünü kesmemek.
• Diğer yolcuların haklarını göz ederek kimseyi rahatsız etmemek.
• Çevreye zarar vermemek.

Yukarıdaki örneklerde hangi nezaket kuralına uyulması gereken örnekler verilmemiştir?

- A) Okulda B) Toplu taşımada
C) Sosyal medyada D) Evde

3. Din Kültürü ve Ahlak Bilgisi öğretmeni Öznur Hanım öğrencilerini dörderli gruplara ayırmış ve her grup üyesine Allah'ın isimlerinin yazılı olduğu kağıtları vermiştir. Öznur Hanım'ın söylediği ayet Allah'ın hangi isimlerini anlıyorsa o öğrenci elindeki yazılı kağıdı yukarı kaldırmaktadır. Öğrenciler ve ellerinde kağıtlar şöyledir:



Öznur Hanım'ın söylediği ayetler şunlardır:

- "... Şüphesiz Allah hakkıyla işitendir, hakkıyla bilendir." (Enfâl suresi, 75. ayet)
- "Bir şeyi dilediği zaman O'nun emri, o şeye ancak 'Ol!' demektir. O da hemen olur." (Yâsîn suresi, 82. ayet)
- "...O karada ve denizde ne varsa bilir; O'nun bilgisi dışında bir yaprak bile düşmez..." (En'âm suresi, 59. ayet)

Öğrenciler verilen örnekleri doğru yaptığına göre aşağıdakilerden hangisinde kağıdını en çok kaldıran ve hiç kaldırmayan öğrenci bir arada verilmiştir?

- A) Mehtap ve Nedim B) Mehtap ve Nil C) Koray ve Nedim D) Koray ve Nil



4. Bir anne kaybolan çocuğunu telaşla aramaktadır. Ararken her bulduğu çocuğu kendi çocuğu zannederek başına basıp emzirmeye çalışmaktadır. Bu annenin durumunu arkadaşlarına anlatan Hz. Muhammed (s.a.v.) “Bu kadının çocuğunu ateşe atabileceğini düşünebilir misiniz? İşte Allah’ın kullarına merhameti bu annenin yavrusuna duyduğundan çok daha fazladır.” diyerek Allah’ın (c.c.) merhametinin ne kadar çok olduğunu vurgulamıştır.

(Müslim)

Bu hadiste Allah’ın (c.c.) isimlerinden hangisi vurgulanmıştır?

- A) Âlim
B) Samed
C) Rahim
D) Rahman

5. Ramazan ayı dinimizce önemli bir zamandır. Bu ay Kur’an-ı Kerim’in inmeye başladığı geceyi içinde barındırır. Ayrıca bir ay boyunca oruç tutarız. Gece oruca hazırlık için uyanıp yemek yeriz. Sonra orucun başladığı saat gelir. Yeme içmeyi kesip oruca niyetleniriz. Gün boyu oruçlu kalıp akşam ezan okunmasıyla orucumuzu açarız. Akşam namazımızı kılıp minarelerden Sala’yı duyunca yatsı namazını ve ramazan ayına özel yirmi rekâtlı namazı kılarız. Ramazan bayramı sabahı gelmeden önce her fert başına verilen sadakayı ihtiyaç sahiplerine veririz.

Paragrafta anlatılanlara göre Ramazan ayıyla ilgili sırasıyla aşağıdakilerden hangisinden bahsedilmiştir?

- A) Kadir gecesi - Sahur - İmsak - İftar - Teravîh - Fitre
B) Teravîh - Sahur - İmsak - İftar - Kadir gecesi - Fitre
C) Teravîh - İmsak - Sahur - İftar - Kadir gecesi - Fitre
D) Kadir gecesi - Teravîh - İmsak - Sahur - Fitre - İftar

6. Dua, insanın bütün samimiyetiyle Allah’a (c.c.) yönelmesi, isteklerini Allah’a (c.c.) iletmesi, O’ndan yardım dilemesi ve O’na güvenip dayanmasıdır. Dua, sevinç ve üzüntüleri Allah (c.c.) ile paylaşmaktır. Allah’ın (c.c.) verdiği nimetlere şükretmektir. Yaptığı hatalardan dolayı pişman olmak ve O’ndan af dilemektir. Zor ve sıkıntılı durumlarda Allah’tan (c.c.) yardım istemektir. Sıkıntılı durumlardan kurtulup rahata kavuştuğunda da memnuniyetini dile getirmektir. İslam dinine göre sadece Allah’a (c.c.) dua edilir. Bu konuyla ilgili Kur’an-ı Kerim’de “El açıp yalvarmaya lâayık olan ancak O’dur...” ayeti Allah’tan (c.c.) başkasına dua edilmeyeceğine işaret etmektedir.

Aşağıdaki ayetlerden hangisi parçada verilen ayet ile doğrudan ilişkilendirilebilir?

- A) “Kullarım beni senden sorarlarsa, bilsinler ki, gerçekten ben onlara çok yakıным. Bana dua edince, dua edenin duasına cevap veririm...”
(Bakara suresi, 186. ayet)
- B) “Yalnız sana ibadet eder ve yalnız senden yardım dileriz.”
(Fâtiha suresi, 5. ayet)
- C) “... Rabbim! Gönlüme ferahlık ver. İşimi bana kolaylaştır.”
(Tâhâ suresi, 25-26. ayetler)
- D) “Rabbimiz! Hesap görülecek günde, beni, annemi, babamı ve tüm inananları bağışla”
(İbrâhîm suresi, 41. ayet)

7. Yoksul olan Ali akşamüstü çarşıda gezerken camideki ışıklı yazıları fark etti. Işıklı yazılarda "Hoş geldin Ramazan" yazıyordu. Demek ki ramazan ayında camilere ışıklı yazılar asılıyor diye düşünerek yanındaki banka oturdu. Yanına birisi yaklaştı. "Ey Allah'ın kulu iftara benim misafirim olur musun?" dedi. Ali yoksuldu bu teklifi sevinerek kabul etti. Misafirliğe gittiği evde güzelce iftarını yaptı ve evden ayrılırken kendisine "Siz bizim sevap kazanmamıza vesile oldunuz." denilerek kadife kese içinde hediye verildi. Bu duruma çok sevindi ve evin yolunu tuttu. Mahalleye girdiğinde ise bakkalın "Adamın biri geldi ve bütün veresiye defterlerindeki borçları ödedi. Artık bana borcun yok." demesi üzerine sevinci bir kat daha arttı.

Bu parçada kültürümüzde ramazan ve oruç ile ilgili kavramlardan hangisine değinilmemiştir?

- A) Mukabele B) Borç sildirme
C) Mahya D) Diş kirası

8. Din kültürü ve ahlak bilgisi dersinde öğrenciler birer ayet söyleyerek İhlas suresini ezberlemeye çalışmaktadır.

Besmele çektikten sonra ayetleri sırasıyla Pınar, Adem, İzzet ve Oya okuduğuna göre,

- I. "Ve lem yekun lehû küfüven ehad." ayetini Oya okumalıdır.
II. "Allâhu's Samed." ayetini İzzet okumalıdır.
III. "Lem yelid ve lem yûled." ayetini Adem okumalıdır.
IV. "Kul huvallâhu ehad." ayetini Pınar okumalıdır.

numaralı bilgilerden hangileri doğrudur?

- A) I ve II . B) I ve IV.
C) II ve III. D) III ve IV.

9. • Arkadaşının eşyalarını izinsiz kullanmak
• Helal kazanç peşinde koşmak
• Yardımsever olmak
• Temiz ve nazik olmak
• Başkalarının arkasından konuşmak
• Kötü söz söylemek
• Gizlice haksızlıklar yapmak
• Mal ve mülkü ile gösteriş yapmak
• Canlılara ve çevreye zarar vermek

Yukarıda verilenlerden kaç tanesi Allah'ın kendisini gördüğüne inanan bir kişinin davranışlarından olamaz?

- A) 4 B) 5 C) 6 D) 7

10.

Z	T	E	R	A	V	İ	H
K	E	R	A	U	E	N	A
A	V	T	B	Y	Y	C	T
D	R	İ	B	B	U	İ	İ
İ	A	F	E	N	J	L	M
R	T	S	N	U	I	K	J
A	S	D	A	D	F	S	Y

Bu bulmacada aşağıdaki sorulardan hangisinin cevabı yoktur?

- A) Ramazan ayında gündüzleri oruç ve diğer ibadetlerle geçiren Müslümanlar, yatsı vakti camilere koşarak yatsı namazından sonra kıldıkları yirmi rekâtlık namaza ne ad verilir?
B) Müslümanlar için çok önemli olan Kur'an-ı Kerim, Ramazan ayının hangi gecesinde indirilmeye başlanmıştır?
C) Hz. Davud'a gönderilen ilahi kitabın adı nedir?
D) İki, Bakara suresi 201. ayette, ikincisi ise İbrahim suresi 41. ayette geçen namazların son oturuşunda okunan dualara ne ad verilmektedir?

**Din kültürü ve ahlak bilgisi testi bitti.
İngilizce testine geçiniz.**

Bu testte 10 soru vardır. Cevaplarınızı cevap kâğıdına işaretleyiniz.

1.

Harry's Weekly Timetable				
Mon	Tue	Wed	Thur	Friday
English	Art	Maths	German	Music
English	I.T.	Science	German	History

Which option is true according to the chart?

- A) He has sports on Tuesday.
- B) His double classes are on Monday and Thursday.
- C) Art and Music classes are at weekend.
- D) He has History class on Monday.

2.



Is there a supermarket near here?

Yes, it is between the clothes shop and Post Office.



----- ?

OK! Go along the White Street. Take the second right and it is on your left opposite to the toy shop.



Which sentence can we add to the dialogue?

- A) When is it open at the weekend
- B) Which road is it on
- C) Can you tell me the way how to go there
- D) Do you know when there is a great discount

3.



I have red spots all over my body and I can't go to school. The doctor told me to stay at home and rest. I don't have to use any kind of medicine.

Which option is not related to Rose?

- A) She has the measles.
- B) She is not going to school for now.
- C) She should stay in bed for some time.
- D) She needs plaster for the spots on her face.

4.

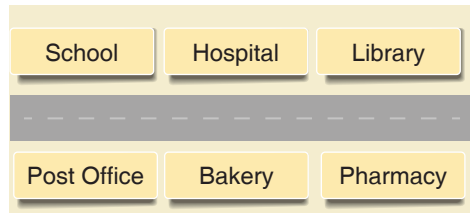
Leo : Hello, I'm Leo. I'm from Japan. What is your name?

John : Hi, my name is John. I'm from Italy. Nice to meet you.

Choose the best option to fill in the blank.

- A) I like playing basketball
- B) I'm sorry
- C) My pleasure
- D) I go to school













5.



Where is the hospital according to the picture?

- A) Hospital is next to the pharmacy.
- B) It is opposite the post office.
- C) Hospital is near the bakery.
- D) It is between the school and the library.

6.

			
Jason			
Victoria			
Julia			

Which option is not true according to the chart?

- A) Only Victoria likes checkers.
- B) Jason loves both skipping rope and blind man's buff.
- C) Nobody enjoys playing strategical games.
- D) Julia and Victoria don't like skipping rope in the park.

7.



This is Jack's father. He is a doctor at hospital. He gets up early every day. He prepares the breakfast for himself. He goes to hospital to help ill people there.

Which of the following is true?

- A) He gets up at two o'clock
- B) Jack's father goes to hospital at nine o'clock.
- C) He never helps ill people
- D) Jack's father is a doctor.


8.




Hello, I'm Tom. I am twelve years old. My favourite hobbies are playing chess, fishing and blind man's buff. I dislike playing hopscotch because it is really boring.

Which one is NOT Tom's favorite?

A)



B)



C)



D)



9. My father is a farmer. He works in his farm. He gets up very early every morning. He milks the cows and sheeps. Then, he cleans the barn and waters the vegetables in the garden. We have a big breakfast before he goes to field with his tractor.

Which activity is not mentioned in the text above?



10. • Jerry gets up at half past six.
• He has breakfast at seven o'clock.
• He goes to school by bus.
• He has lunch at school canteen.
• Jerry does his homework at three o'clock.

Which picture is NOT about Jerry's activities?



DAHA FAZLASINI İSTEYENLERE



FOTOKOPİ ÇEKMEK
HAK İHLALIDIR
İSLEYEN ZEKA
EYTED
EĞİTİM YATIRIM VE TEKNOLOJİLERİ ŞİRKETİ

Ostim Mahallesi 1207. Sokak
No: 3/C-D Ostim / ANKARA

Tel: (0312) 395 13 36
Fax: (0312) 394 10 04

[@isleyenzekayayinlari](#)

[@isleyenzekayayinlari](#)

[@isleyenzekaa](#)

5. SINIF DENEME SINAVI

SAYISAL BÖLÜM



2. OTURUM

DERS ADI	SORU SAYISI	TOPLAM SORU SAYISI	SINAV SÜRESİ (DAKİKA)
Matematik	20	40	80
Fen Bilimleri	20		

AÇIKLAMA

1. Bu kitapçıkta 5. sınıf sayısal bölüm testi bulunmaktadır.
2. Bu kitapçıkta testlerde yer alan her sorunun yalnızca bir doğru cevabı vardır.
3. Cevap kâğıdı üzerindeki kodlamaları kurşun kalemle yapınız.

Adı :

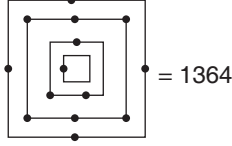
Soyadı :

Sınıfı / Şubesi :

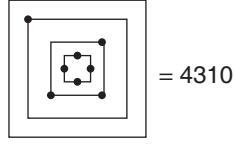
Öğrenci No :

Bu testte 20 soru vardır. Cevaplarınızı cevap kâğıdına işaretleyiniz.

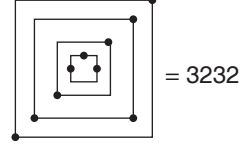
1. Aşağıda belli bir kurala göre oluşturulmuş üç tane eşitlik verilmiştir.



$$= 1364$$

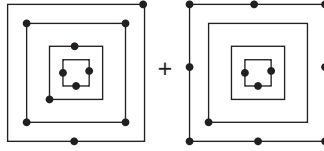


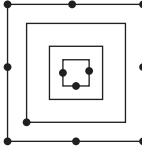
$$= 4310$$



$$= 3232$$

Buna göre;

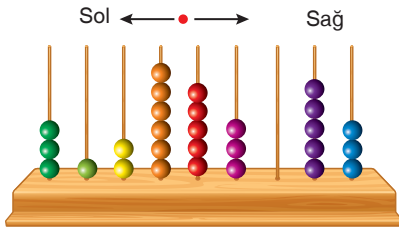


$$+$$


işleminin sonucu kaçtır?

- A) 7360 B) 6260 C) 6207 D) 6037

- 2.



Yukarıdaki abaküs modelini 9 basamaklı bir sayı olarak okuyacak olan Mert ile Serhat'tan; Mert abaküsü soldan sağa doğru, Serhat ise sağdan sola doğru okumuştur.

Buna göre Serhat'ın okuduğu sayı, Mert'in okuduğu sayıdan kaç fazladır?

- A) 37703160 B) 38703260
C) 37702160 D) 38703160

- 3.



İstanbul'dan Salı günü saat 07.30'da hareket eden bir otobüs 10, 20 ve 30'ar dakikalık üç defa mola vererek Çarşamba günü saat 13.30'da Berlin'e varıyor.

Buna göre otobüs molalar hariç Berlin'e kaç saatte gitmiştir?


- A) 28 B) 29 C) 30 D) 31

4. 1. adım : $1 + 1^1$
 2. adım : $2 + 2^2$
 3. adım : $3 + 3^3$

Yukarıda ilk üç adımı oluşturulan sayı örüntüsünün 4. adımındaki işlemin sonucu kaçtır?

- A) 64 B) 72 C) 260 D) 290

5.



Bir tarlanın yarısına buğday, $\frac{1}{5}$ 'ine mısır, $\frac{1}{10}$ 'ine arpa ekiliyor.

Geriye kalan kısmına da havuç ekildiğine göre havuç ekili alan tarlanın kaçta kaçtır?

- A) $\frac{3}{10}$ B) $\frac{1}{5}$ C) $\frac{2}{5}$ D) $\frac{1}{10}$

6. $A = \frac{1}{2} + \frac{2}{3} + \frac{5}{12}$

$B = \frac{3}{5} - \frac{7}{20} + \frac{1}{4}$

Buna göre "A - B" işleminin sonucundan aşağıdakilerden hangisi çıkarılırsa bir tam (bir bütün) elde edilir?

- A) $\frac{1}{5}$ B) $\frac{1}{9}$ C) $\frac{1}{10}$ D) $\frac{1}{12}$

7.

1. adım

--	--	--	--	--	--

2. adım

--	--	--	--	--	--	--

3. adım $40 : 2 = 20$
 $20 \times 7 = 140$

Yukarıda üç adımda çözümü verilen problem aşağıdakilerden hangisi olabilir?

- A) Sevgi, bir matematik soru bankasındaki soruların önce $\frac{2}{7}$ 'sini çözüyor. Daha sonra kalan soruların $\frac{3}{5}$ 'ünü çözünce geriye 40 soru kalıyor. Buna göre soru bankasında kaç soru vardır?
- B) Yunus, cebindeki parasının $\frac{2}{7}$ 'si ile pantolon, $\frac{3}{7}$ 'ü ile ceket alıyor. Geriye 40 lirası kaldığına göre, başlangıçta kaç lirası vardı?
- C) Bir işçi bir duvarın $\frac{2}{7}$ 'sini boyayınca geriye kalan 40 liralık boya ile de $\frac{3}{5}$ 'ünü boyayabiliyor. Buna göre duvarın boyanması için harcanan toplam para kaç liradır?
- D) Bir kitabın $\frac{2}{7}$ 'sini okuyan Selim, $\frac{3}{5}$ 'ünü daha okuyunca geriye 40 sayfa kalıyor. Buna göre kitap kaç sayfadır?

8. Aşağıda verilen eşitliklerden hangisi yanlıştır?

A) $5 + \frac{2}{3} = 5\frac{2}{3}$

B) $\frac{27}{4} = 6\frac{3}{4}$

C) $11 - \frac{1}{10} = \frac{110}{10}$

D) $7 - \frac{11}{12} = \frac{95}{12}$