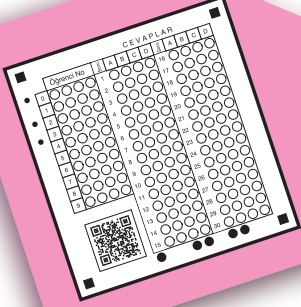


Her teste yer alan dijitalim uygulaması öğrencilerin çözemedikleri soruların video çözümüne ulaşmasını sağlamaktadır. Google Play veya Appstore mağazalarından dijitalim test uygulamasını indirerek okutunuz.



YENİ MÜFREDATA UYGUN

TAM HÜCRELEME SİSTEMİ

AKILLI TAHTAYA UYUMLU

Bilgi Hazinesi

Bu bölümde ilgili kazanımın konu özeti yer almaktadır.

LGS Soruları

Bu bölüm 8. sınıf kitaplarında yer alır. İşlenen ünitelerle ilgili LGS'de çıkmış soruları içerir.

Uygulama

Yalnızca anlatılan konuyu içeren uygulama, o konuyu kavramanızı sağlayacaktır.

Kavrama Testi

Yalnızca anlatılan konuyu içerir. Konuyu pekiştirmenizi sağlayacaktır.

PISA TIMSS

Bu sayfalarda PISA ve TIMSS sorularında çıkan sorulara benzer sorular yer almaktadır.

Analiz Sentez Testi

Kazanımla ilgili mantık/muhakeme gerektiren sorular içerir. Bu testteki soruların zorluk düzeyi kavrama testinden daha yüksektir.

Kazanım Değerlendirme Sınavı

Fasikülün bittiği tarihten itibaren işlenen konulardan oluşan bir deneme sınavıdır.

Yazılı Sınavları

Okulda uygulanacak yazılı sınavlar ile aynı konuları kapsayan bu bölüm okuldaki başarınızı artıracaktır.

Fasikül Tarama Testi/Analizi

Fasikülde yer alan tüm üniteleri içermektedir. Konuların tekrar edilip eksikliklerin görülmesini sağlayacaktır.

Ünite Değerlendirme Testi/Analizi

Her ünitenin sonunda yer alan ünite değerlendirme testleri, tüm ünitelerdeki kazanımları gördüğünüz ve eksikliklerinizi belirlemeniz için yol gösterecektir.

8

BİLGİ HAZİNE
SAYISI

20

UYGULAMA
SAYISI

206

SORU SAYISI

1

YAZILI SINAV
SAYISI

Copyright ©

Bu kitabın her hakkı yayınevine aittir.

Hangi amaçla olursa olsun,
bu kitabın tamamının ya da bir kısmının,
kitabı yayınlayan yayınevinin önceden
izni olmaksızın elektronik, mekanik, fotokopi
ya da herhangi bir kayıt sistemi ile çoğaltılması,
yayınlanması ve depolanması yasaktır.

230519 – B1

ISBN: 978-605-7585-05-9



Genel Yayın Koordinatörü
Selim AKGÜL



Yazar
Servet SÜT / Hasan AKIN
Zeynep Cemre AKIN



Editör
Merve ER



Dizgi
Son Viraj Dizgi Birimi



Basım Yeri

ÖN SÖZ

Sevgili Öğrenciler,

Son Viraj Yayınları olarak hedefi yüksek olan öğrencilere rehber olmak ve onların başarı seviyesini yükseltmek için yola çıktık. Değişen sınav sistemiyle birlikte ortaya çıkan yeni nesil sorularla kitaplarımızı oluşturarak sizleri bu sınavlara en iyi şekilde hazırlamayı istiyoruz.

Kitaplarımızı hazırlarken Talim ve Terbiye Kurulu Başkanlığı tarafından yayımlanan öğretim programlarındaki kazanımları esas alıyoruz. Soruları bu kazanımlar çerçevesinde hazırlıyor, tüm kazanımlara kitaplarımızda yer veriyoruz. Bunu yaparken kazanım dışına asla çıkmıyoruz. Testleri mantık, muhakeme, analiz, sentez gerektiren sorularla oluşturuyoruz. Yeni nesil olarak adlandırılan bu tip sorularla öğrencilerimizin analitik düşünerek bilgilerini günlük hayata aktarabilmelerini amaçlıyoruz.

Bloom taksonomisine uygun olarak özet konu anlatım, uygulama, kavrama, analiz-sentez, ünite değerlendirme testi ve analiziyle oluşturduğumuz “Drift Serisi” ile öğrencilerimizi bilgi düzeyinden sentez düzeyine çıkarıyoruz. Kolaydan zora şeklinde hazırlanan bu testler sayesinde başarı basamaklarını kolaylıkla aşacağınızı düşünüyoruz.

Ünite değerlendirme testleri şeklinde hazırladığımız “OFF-ROAD Serisi” ile son tekrarı da yaparak öğrencilerimizi hedeflerine bir adım daha yaklaştırıyoruz. Deneme sınavlarıyla da sizleri sınav seviyesinden daha üst seviyelere taşıyarak sınavlarda karşılaşacağınız hiçbir soru karşısında zorlanmadan başarılı sonuçlar elde edeceğinizi düşünüyoruz.

Son Viraj Yayınları ile çıktığınız bu yolculukta hedefinize ulaşmanızı diliyor, size bu yolda rehberlik yapmaktan onur duyuyoruz.

Selim AKGÜL

Genel Yayın Yönetmeni

İçindekiler

1. ÜNİTE

GÜNEŞ SİSTEMİ VE ÖTESİ

| | |
|--|----|
| Uzay Araştırmaları..... | 7 |
| Güneş Sistemi ve Ötesi: Gök Cisimleri..... | 15 |
| Ünite Değerlendirme Testi..... | 23 |
| Ünite Değerlendirme Testi Analizi..... | 27 |

2. ÜNİTE

HÜCRE VE BÖLÜNMELE

| | |
|--|----|
| Hücre..... | 31 |
| Mitoz..... | 39 |
| Mayoz..... | 45 |
| Ünite Değerlendirme Testi..... | 53 |
| Ünite Değerlendirme Testi Analizi..... | 57 |
| I. Dönem I. Yazılı Soruları..... | 59 |

3. ÜNİTE

KUVVET VE ENERJİ

| | |
|--|-----|
| Kütle ve Ağırlık İlişkisi..... | 63 |
| Kuvvet, İş ve Enerji İlişkisi..... | 71 |
| Enerji Dönüşümleri..... | 79 |
| Ünite Değerlendirme Testi..... | 87 |
| Ünite Değerlendirme Testi Analizi..... | 91 |
| Fasikül Tarama Testi..... | 93 |
| Fasikül Tarama Testi Analizi..... | 97 |
| 1. Deneme..... | 99 |
| TIMSS-PISA..... | 107 |

| | |
|---------------------|-----|
| Cevap Anahtarı..... | 110 |
|---------------------|-----|

1. ÜNİTE

Güneş Sistemi ve Ötesi

Uzay Arařtırmaları

Güneş Sistemi ve Ötesi: Gök Cisimleri

Ünite Deęerlendirme Testi

Ünite Deęerlendirme Analizi

KAZANIMLAR

7.1.1.1. Uzay teknolojilerini açıklar.

7.1.1.2. Uzay kirliliğinin nedenlerini ifade ederek bu kirliliğin yol açabileceği olası sonuçları tahmin eder.

7.1.1.3. Teknoloji ile uzay araştırmaları arasındaki ilişkiyi açıklar.

7.1.1.4. Teleskobun yapısını ve ne işe yaradığını açıklar.

7.1.1.5. Teleskobun gök bilimin gelişimindeki önemine yönelik çıkarımda bulunur.

7.1.1.6. Basit bir teleskop modeli hazırlayarak sunar.

7.1.2.1. Yıldız oluşum sürecinin farkına varır.


7.1.2.2. Yıldız kavramını açıklar.

7.1.2.3. Galaksilerin yapısını açıklar.

7.1.2.4. Evren kavramını açıklar.

Bilgi Hazinesi

- Geliřen teknoloji ile birlikte uzayı daha iyi gözlemlemek için çeřitli araçlar geliřtirilmiřtir. Bu teknolojik geliřmelerden biri de **yapay uydular**dır.
- Yapay uydular Dünya'nın çevresinde bir yörüngede dolanır, bu sırada Dünya'yı gözlemler, hava olaylarındaki deęiřimleri belirler, radyo, televizyon ve telefon iletişimini saęlarlar.
- Türkiye'nin 2017 yılı itibariyle üçü haberleřme (Türksat 3A, Türksat 4A, Türksat 4B), üçü gözlem (GÖKTÜRK-1, GÖKTÜRK-2 ve RASAT) olmak üzere aktif, 6 uydusu bulunmaktadır. Daha önceden uzaya gönderilmiş olan 3 haberleřme uydusu (Türksat 1B, Türksat 1C, Türksat 2A) ile BİLSAT isimli 1 gözlem uydusu ömrünü tamamlamıřtır.
- 2020 yılında ise Türkiye'nin ilk yerli ve millî uydusu olacak TURKSAT 6A haberleřme uydusunun uzaya fırlatılması planlanmaktadır.



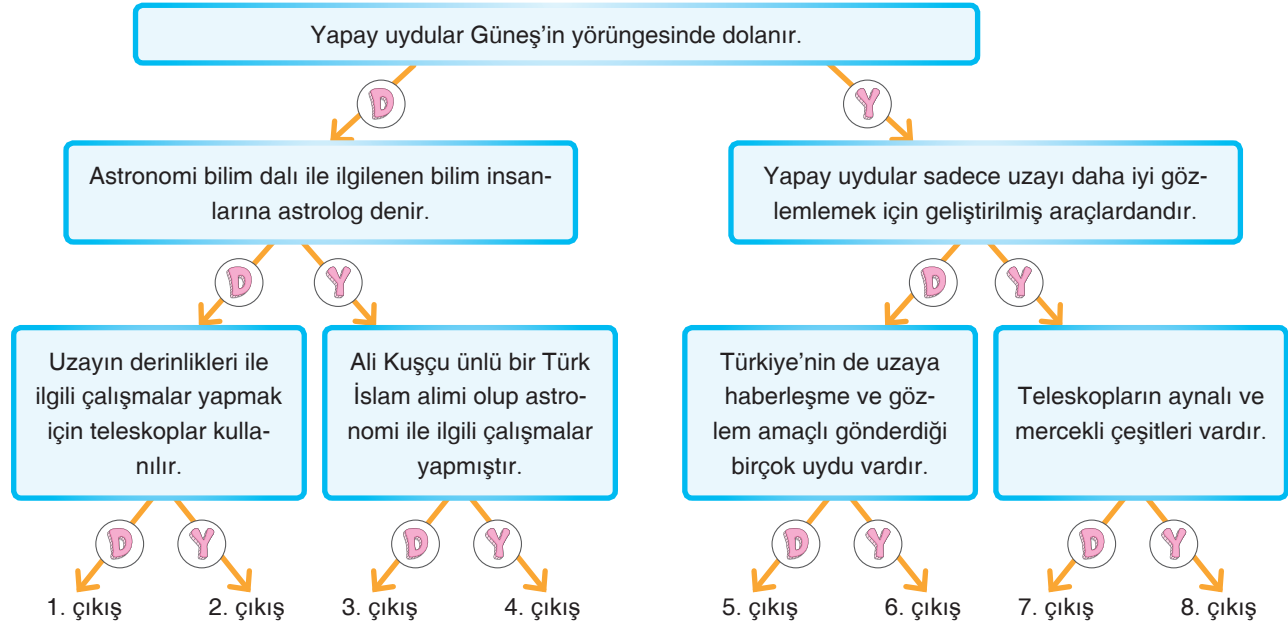
- Uzaya gönderilen yapay uydular, uzay mekikleri, roketler gibi araçların parçaları daha sonra çöp hâline gelmekte ve **uzay kirliliğine** sebep olmaktadır.

- Uzayın derinlikleri hakkında bilgi sahibi olmak için **teleskoplar** kullanılır. Aynalı, mercekli ve radyo teleskoplar olmak üzere 3 çeřit teleskop vardır. Teleskoplar geliřtirildikçe uzayın derinliklerindeki bilinmeyenler sırasıyla ortaya çıkmaktadır.
- Harizmi (780 – 850), Ebu Ma'şer (785 – 886), İbn-i Firnas (?-887), Beyruni (973 – 1051), Kazvini (1203 – 1283), Ali Kuşçu (? – 1474)... gibi pek çok Türk-İslam alimi astronomi ile ilgili çalışmalar yapmıřtır.





A. Ařađıda verilen ifadelerin dođru "D" ya da yanlış "Y" olduđuna karar vererek ilgili ok yönünde ilerleyiniz ve dođru çıkışı bulunuz.



B. Ařađıda verilen boşlukları dođru ifadelerle doldurunuz.



1. Dünya ile Güneř arasındaki uzaklık ile ifade edilir.
2. Uzayın derinlikleri hakkında bilgi sahibi olmak için kullanılır.
3. Yapay uydular çevresinde bir yörüngede dolanır.
4. Teleskoplar aynalı, mercekli ve teleskoplar olmak üzere 3 çeşittir.
5. , , gibi pek çok Türk İslam alimi astronomi ile ilgili çalışmalar yapmıştır.
6. Dünya'yı gözlemler, hava olaylarındaki deđişimleri belirler, radyo, televizyon ve telefon iletişimini sağlar.
7. Uzaya gönderilen yapay uydular, roketler ve uzay mekikleri neden olurlar.

1.

GAZETE

A-Z

UZAY KİRLİLİĐİ

Uzay kirliliĐinin sebeplerinden bazıları; uzaya gnderilen eřitli aralar, bunların meteorlara arparak oluřturduĐu paralar, uzay istasyonlarından bırakılan plerdir. Bunlar ok hızlı bir Őekilde yrngede dolanırlar ve kirlilik oluřtururlar, uydulara arparak hasar verirler.

Uzay kirliliĐi son 40 yılda ortaya ıkan bir sorundur. Dnya'nın evresinde, deĐiřik yrngelerde dnen ve artık herhangi bir iřlevi olmayan, insan yapımı cisimlerin tm, uzay kirliliĐi olarak adlandırılır. Bunların arasında mrn tktmif uyduların yanı sıra roketlerin uzaya bırakılan st ařamaları ve yrngede oluřan patlamaların artıkları da vardır.

Uzay kirliliĐinin Őimdilik insanların gnlk yařamlarına doĐrudan bir etkisi yoktur. Bu nedenle de genellikle gzardı edilen ya da unutulmuş bir sorun olmuřtur. Hatta insanların byk bir blm byle bir sorunun varlıĐından bile habersizdir. Ancak nem alınmazsa, uzay kirliliĐi nmzdeki 25-30 yıl iinde uzay arařtırmaları aısından ok ciddi bir sorun olacaktır.

Yukarıda uzay kirliliĐi ile ilgili bir gazete haberi yer almaktadır.

Buna gre metindeki bilgilerden yola ıkılarak ařaĐıdaki sorulardan hangisinin cevabına ulařılmaz?

- A) Uzay kirliliĐinin nedenleri nelerdir?
 B) Uzay kirliliĐinin gelecekte ortaya ıkaracaĐı sorunlar nelerdir?
 C) Uzay kirliliĐinin nlenmesi iin alınacak tedbirler nelerdir?
 D) Uzay kirliliĐinin oluřum sreci insanoĐlunun gndemine ne zaman girmiřtir?

2.




TURKSAT 4A



SPUTNIK-I



RASAT



GOKTURK

Yukarıdakilerden hangisi Trkiye'nin uzaya gnderdiĐi uydulardan biri deĐildir?

- A) Trksat 4A
 B) Rasat
 C) Sputnik – I
 D) Gktrk

İPUCU

» mrn tamamlayan yapay uydular, uzay kirliliĐine neden olur.

3.

Teleskop; uzaktaki bir cisimi ok yakında gsteren, gerektiĐinde ayrıntılı Őekilde cisimleri incelememizi zellikle gkyznde ıplak gz ile gremediĐimiz gk cisimlerini daha ayrıntılı grebilmemizi saĐlayan aletlerdir.



ok sayıda bilim insanının uzaya ilgiyi olmakla birlikte yukarıda grseli de verilen teleskobun icat edilmesi ile uzay arařtırmalarında aĐ atlanmıřtır.

Bu kadar nemli olan teleskobun icadını gerekleřtiren bilim insanı, ařaĐıdakilerden hangisidir?

- A) Harezmi
 B) Galileo Galilei
 C) İbn-i Firnas
 D) Ali Kuřu

4.

GAZETE

A-Z

TÜRKİYE'NİN UZAYDAKİ FİLOSU GENİŐLİYOR

05.12.2016

Uzayda uydu sahibi 30 ülkeden biri olan Türkiye'nin aktif uydu sayısı, "Göktürk-1" in uzaya fırlatılması ile 6'ya ulaşmış oldu. Türkiye'nin haberleşme, iletişim, keşif veya gözlemler yapmak amaçlı 5 uydusunun yanına, yine önemli görevleri olan "Göktürk-1" uydusu gönderilerek, Türk silahlı kuvvetlerinin ihtiyaçları karşılanmış ve ülkemizin gelişimine önemli katkılar sağlaması amaçlanmıştır.




Yukarıda görseli ile birlikte verilen haber içeriğindeki "Göktürk-1" uydusunun diğer görevi aşağıdakilerden hangisinde doğru verilmiştir?

- A) Teknolojinin gelişimine bağlı haberleşme ve iletişimi güçlendirme
- B) Keşif ve gözleme bağlı olarak tarım ve şehircilikte kullanılma
- C) İnternet kullanımının artmasıyla ortaya çıkan ihtiyacı karşılama
- D) Türk Silahlı Kuvvetlerinin silah gücünü artırma

5. Aşağıdakilerden hangisi astronomi ile ilgili bilimsel çalışma yapan Türk - İslam alimlerinden biri değildir?




Ali Kuşçu



Harezmi



İbn-i Firnas



Kepler

İPUCU

» Ulusal ve uluslararası iletişimi kolaylaştırmak, uzay arařtırmalarına yardımcı olmak amacıyla insan eliyle yapılmış uydular yapay uydulardır.


6. Türkiye'nin çeşitli zamanlarda uzaya gönderdiği yapay uydular farklı farklı görev ve isimlere sahiptir.

Buna göre aşağıda ismi ve görevi verilen uydulardan hangisinde hata yapılmıştır?

| | Uydu ismi | Görevi |
|----|-------------|------------------------|
| A) | Türksat 3A | Haberleşme ve İletişim |
| B) | Türksat 4A | Haberleşme ve İletişim |
| C) | Türksat 5A | Haberleşme ve İletişim |
| D) | Göktürk - 2 | Keşif ve Gözlem |

1. Günümüz insanların merak ettiđi konuların bařında gelen uzay arařtırmaları, teknolojik geliřmelerin artması ile daha da cazip hâle gelmiřtir. Teknolojinin, özellikle gözlem araçları ve astroloji bilimine sađladığı faydalar ile geliřmeler hız kazanmıřtır. Teknolojinin, uzay arařtırmaları için sađladığı araçlar ve faydaları için bir çok örnek verilebilir.

Buna göre ařađıda verilen teknolojik araç ve sađladığı faydalardan hangisi, uzay arařtırmaları sonucunda elde edilmemiřtir?




Uzayda bulunan gezegenlerin yařam kořullarına sahip olup olmadığını arařtırır.



Uzaydan gelen radyo dalgalarını toplayıp, elektrik sinyallerine dönüřtürerek, görüntüler elde edilir.



Her türlü silahlı tehlikelere karřı, önceden önlemler almayı sađlar.




Gök cisimleri ile ilgili arařtırmalar yapılarak, Mars gezegeninde rastlanılan yařam belirtilerini ortaya çıkarır.

2. 17. yüzyılda teleskobun icat edilmesi ile uzayın incelenmesi ve arařtırmaların gerçekteřirilmesi hız kazanmıřtır. Ancak bu arařtırmalardan detaylı sonuçlara ulařılması için sadece teleskop kullanımı, ihtiyacı karřılayamamıř ve farklı çalıřmalar yapılarak incelemeler gerçekteřirlemiřtir.


Buna göre uzay arařtırmalarında teleskop haricinde kullanılan araçlar arasında ařađıdakilerden hangisi gösterilemez?



Uzay Mekikleri



Uzay Sondaları



Yapay Uydular



Kızılötesi Sensörler

İPUCU

3. İnsan eliyle yapılarak Dünya yörüngesine yerleřtirilen, görevleri arasında; ---, ---, ---, ---, bulunan yapay uydulardan ilki, 1957 yılında (SSCB tarafından) uzaya gönderilen "Sputnik-1" uydusudur.

Yukarıda verilen ifadelerde yapay uydu olan Sputnik-1'in görevleri boş bırakılmıřtır.

Buna göre ařađıda verilen görevlerden hangisi boşluklardan birine yazılması yanlıř olur?

- A) askeri
B) haberleřme
C) gök cisimlerini inceleme
D) turistik gezi

4. Ali Öğretmen, uzay istasyonları için Zeynep ve Ahsen'den araştırma yaparak bir sonraki derslerinde sunum gerçekleřtirmelerini istemiřtir.



Yukarıdaki görsel ile sınıfa gelen iki öğrenciden Zeynep, uzay istasyonları ile ilgili sunum yaparken, Ahsen ise bu istasyonların özelliklerini tahtaya ařağıdaki gibi yazmıřtır.

- İnsanların içinde ---- süre kaldıkları istasyonlardır.
- Arařtırmalar gerçekleřtirilen ---- uydulardır.
- Dünya'da ---- deneyler ve arařtırmalar detaylı olarak gerçekleřtirilmektedir.
- Enerji ihtiyaçları Güneř'ten karřılanmaktadır.

Ahsen'in tahtaya yazdığı bilgilerin boş kısımlarını Zeynep arkadaşlarına sormuř, sadece bir doğru cevap alabilmiřtir.


Buna göre ařağıdaki cevaplar incelendiğinde, hangi öğrenci tüm boşluklar için doğru ifadeler kullanmıřtır?

- A)  uzun \ yapay \ yapılabilen
Ali
- B)  kısa \ yapay \ yapılabilen
Ema
- C)  uzun \ doğal \ yapılamayan
Elif
- D)  uzun \ yapay \ yapılamayan
Ahmet

İPUCU

- » Ay'ın ilk haritasını çıkan Gökbilimci Ali Kuřçu'dur.

5.



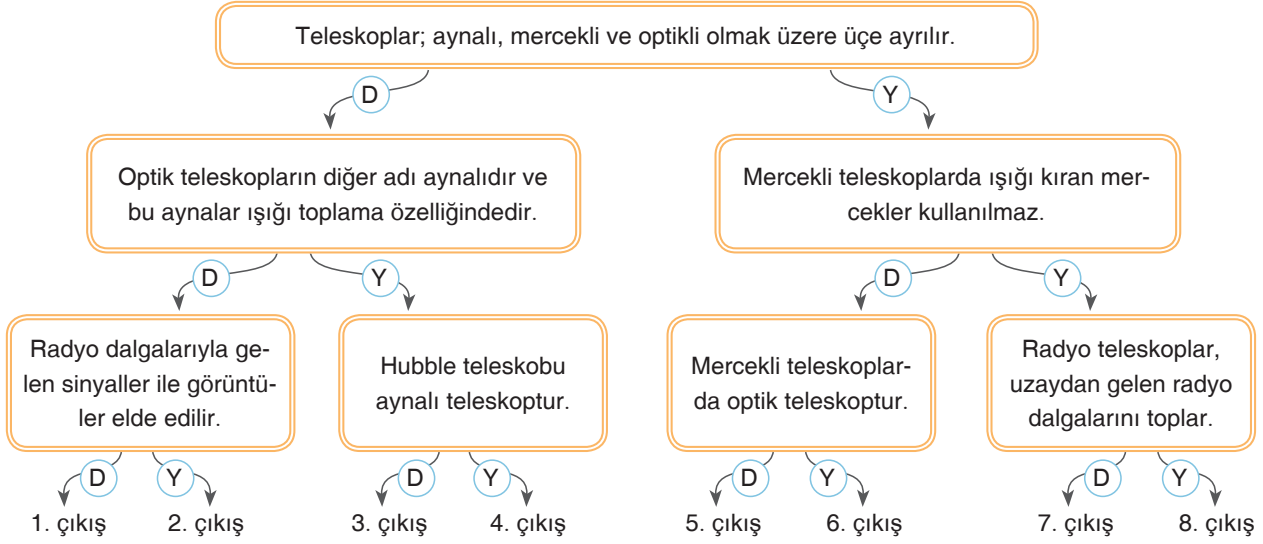
Uzaydan uydular vasıtasıyla alınan gece görüntüleri, dış aydınlatma lambalarından çıkan ışığın önemli bir kesiminin uzaya gittiğini kanıtlamaktadır. Yeryüzündeki nesnelere yansıyan ışık enerjisinin oluşturduğu bu olumsuz durum ---- olarak tanımlanmaktadır. Bu yapay gök parlaklığı, insanların gökyüzünü seyretmelerini ve amatör gökbilimcilerin özel araçları ile gök cisimlerini izlemelerini ne yazık ki ciddi anlamda engellemektedir.

Yukarıda anlatılmak istenen durum, paragraf içerisinde de boş bırakılmıştır.

Buna göre ařağıdaki ifadelerden hangisi boşluk olan kısma eklenirse, anlam bütünlüğü olur?

- A) hava kirliliğı B) ışık kirliliğı
C) uzay kirliliğı D) yapay uydular

1. Teleskop ve çeřitleri ile ilgili hazırlanan ařağıdaki kavram haritasında doęru ıkıřa ulařılması amalanmıřtır.



Yukarıdaki ifadelerin doęruluęu ya da yanlıřlıęı incelenerek doęru bir řekilde ilerlenildięinde, hangi ıkıřa ulařılması beklenir?

- A) 1. ıkıř B) 4. ıkıř C) 5. ıkıř D) 7. ıkıř

2. Uzay arařtırmaları iin kullanılan aralardan bir tanesi de, zaman zaman fırlatılmasının canlı olarak yayınlandığı uzay roketleridir. Bu roketlerin zellikleri ile ilgili ařağıda bir doęru / yanlıř tablosu hazırlanmıř ve doldurulması istenmiřtir.

| | D | Y |
|---|---|---|
| Roketler uzaya, uydu ya da uzay aracı tařımak iin kullanılan aralardır. | | |
| Uzay roketleri birok kez kullanılır ve her defasında farklı uzay araları tařınır. | | |
| Roketlerin hareketini, tařıdıkları yakıt ve oksijenin yanması sonucu oluřan gazların itmesi gerekleřtirir. | | |

Yukarıda verilen tablodaki bilgilerin karřısına sadece bir doęru cevap verebilen Emre, tabloyu ařağıdakilerden hangisi gibi doldurmuř olabilir?

- A)

| |
|---|
| D |
| Y |
| D |

 B)

| |
|---|
| Y |
| Y |
| D |

 C)

| |
|---|
| D |
| Y |
| Y |

 D)

| |
|---|
| D |
| D |
| Y |

IPUU

» Sabit teleskoplar kullanılarak uzay gzlemlerinin yapıldığı yerlere rasathane denir.

3.



Yukarıda karikatürize edilerek anlatılmak istenen uzay kirlilięi, son 40 yılda ortaya ıkan nemli sorunlardan bir tanesidir. Uzay kirlilięi tam olarak, Dnya'mızın evresinde, deęiřik yrngelerde dnen ve herhangi bir iřlevi olmayan, insan yapımı cisimlerin tm olarak adlandırılır. Bu kirlilięin oluřmasında, mrn tamamlamıř uyduların yanı sıra, roketlerin uzaya bırakılan st ařamaları ve yrngede oluřan patlamaların atıkları da yer almaktadır.

Buna gre yukarıda anlatılanlara bakıldıęında, uzay kirlilięine sebep olan maddeler arasında, ařağıdakilerden hangisinin bulunması beklenmez?

- A) l uydular
B) Roket paraları
C) İnsan yapımı aydanlık
D) Yakıt tankları

4. Uzay çöpü olarak da tanımlanan uzay kirliliđi, yapılan çalışmaların en büyük sorunlarından biridir. Bu çöpler roket ve uydu parçalarından, astronot eşyalarından ve benzeri çeşitli atıklardan oluşmaktadır. Yapılan araştırma sonuçlarına bakılırsa, özellikle çöplerin % 40'ı Çin, % 27'si ABD ve % 25'i de Rusya tarafından bırakılmıştır.

Yukarıda bahsedilen kirliliđin azaltılması için yapılan veya yapılacak önlemler arasında aşağıdakilerden hangisi gösterilemez?

- A) Ömrünü tamamlayan uyduların, Dünya'ya dönmeleri sağlanmalıdır.
- B) Uydu kullanımlarına sınırlamalar getirilmelidir.
- C) Çin, ABD ve Rusya gibi kirliliđe sebep olan ülkelerin çalışmalarına dikkat etmesi sağlanmalıdır.
- D) Ömrü tamamlanan uyduların, kendi kendini yok etmeleri için sistemler geliştirilmelidir.
5. Uzayı gözlemlemek için insanların büyük uğraşları olmuştur. Eski medeniyetlerde gözlem için insanların sadece gözleri varken, günümüzde ise bir çok uzay gözlem aracından yararlanılmaktadır. Gök, içinde gök cisimlerinin hareket ettiđi sonsuz boşluk, yani uzay olarak tanımlanır ve uzayı inceleyen insanlara ise gök bilimci ismi verilir. Gök bilimciler çeşitli gözlemler yaparak gök cisimlerinin hareketlerini incelerken, bazen de hiç fark edilmemiş gök cisimleri keşfederek, bu cisimlere genellikle kendi isimlerini vermişlerdir. Örneđin; Halley kuyruklu yıldızını ilk gözlemleyen gök bilimci Edmund Halley'dir.

Yukarıda anlatılan ifadelerde gök bilimcilerin gözlemleri gerçekleştirirken kullandıkları araçlardan en önemlisi, aşağıdakilerden hangisidir?

- A)  Teleskop
- B)  İnsansız Uzay Aracı
- C)  Uzay Mekiđi
- D)  Uzay Sondası

İPUCU

» Işık kirliliđi yanlış yerde, yanlış miktarda yanlış yönde ve yanlış zamanda ışık kullanılmasıdır.

6. **Rasathane (Gözlemevi):** Uzaydaki her çeşit deđişikliđi gözlemlemek, veriler toplamak ve incelemek için kurulan merkezlerdir. Aşađıda bir rasathane görseli paylaşılmıştır.



Rasathanelerin kurulma yerleri önemlidir ve bazı şartları sağlaması gerekir. Her boş bulunan bölgeye rasathane kurulmaz.

Buna göre bir rasathane (gözlemevi) kurulabilmesi için yerleşim alanının aşağıdaki özelliklerden hangisini taşıması beklenmez?


- A) Yüksek yerlerde atmosfer daha ince olduđundan gözlemevi yüksek yerde olmalıdır.
- B) Çeşitli ışık kaynaklarından uzak olmalıdır.
- C) Deprem bölgelerine yakın yerlerde olmalıdır.
- D) Bulutsuz gece sayısının fazla olduđu bölgelere kurulmalıdır.

Bilgi Hazinesi

- Uzay, Dünya'nın atmosferi dışında ve diğer gök cisimleri arasında yer alan, gök cisimleri hariç evrenin geri kalan kısmındaki sonsuz olduğu düşünülen boşluktur.
- Yıldız, ağırlıklı olarak hidrojen ve helyumdan oluşan, uzayda ışık saçan, gökyüzünde bir nokta gibi görünen plazma küresidir.




Yıldız

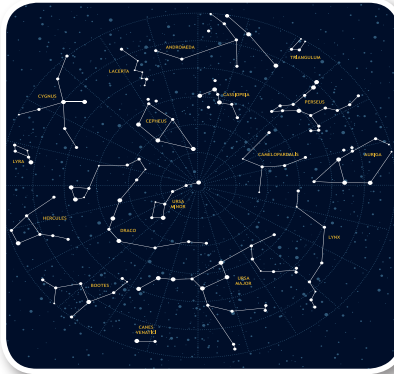


Nebula

- Uzayda bulunan toz, hidrojen, helyum ve diğer iyonize gazlardan oluşan bulut şeklindeki yapıya **bulutsu (nebula)** denir ve yıldızları oluşturur. Yıldızlar arasında bulunan boşluklarda yer alan ve yıldızların yaydıkları ışık enerjisi ile görülen bulutsular yıldızların ve gök adaların temel bileşenleridir.
- Kütlesi bir yıldız oluşumu için yeterli olan bir bulutsu, kütle çekim kuvveti ile hızla içeri çöker, küçülür. Bu sırada kendi eksenini etrafında daha hızlı dönmeye başlar. Döndükçe küçülür, küçüldükçe ısınır ve yoğunlaşır. Böylece **yıldız** oluşur.
- Bir yıldız patladıktan sonra geride kalanlar hızlı bir şekilde bir araya toplanır. Eğer yıldız gerçekten büyükse kalıntısı hiçbir şey kalmayacak şekilde küçülür. Geri kalan her şey büyük bir kütle çekimi olan, küçük bir uzay bölgesidir. Bu çekim kuvveti o kadar büyüktür ki, bu küçük bölge diğer yıldızlar dahil yakınındaki her şeyi kendine çekerek yutar. Bu nedenle bunlara **karadelik** ismi verilmiştir.
- Dünyadan bakıldığında bir arada duruyormuş gibi görünen yıldız gruplarına **takım yıldız** adı verilir. Küçükayı, Büyükayı, Avcı (Orion) ve Leo (Aslan) takım yıldızına örnektir.
- Uzayda milyonlarca yıldızın, gaz ve toz bulutlarının kümeleştiği uzay odaklarına **galaksi (gök ada)** denir. Dünyamız Samanyolu Galaksisi'nde bulunur. Galaksiler eliptik, sarmal, çubuklu ve şekilsiz galaksiler olarak sınıflandırılır. Samanyolu Galaksisi sarmal bir galaksidir. Sarmal galaksilerden biri de Andromeda'dır. Yaklaşık bir trilyon yıldızı vardır. Tüm gök cisimlerini barındıran ve uzayda yer alan her şeyin toplamına **evren** adı verilir.
- Uzayda uzaklıkların çok büyük olması nedeniyle iki gök cisimi arasındaki uzaklığı belirtmek için **ışık yılı** birimi kullanılır. Bir ışık yılı, ışığın boşlukta bir yılda aldığı yol kadardır.



Karadelik



Takım yıldız



Galaksi